

## Klasa VII

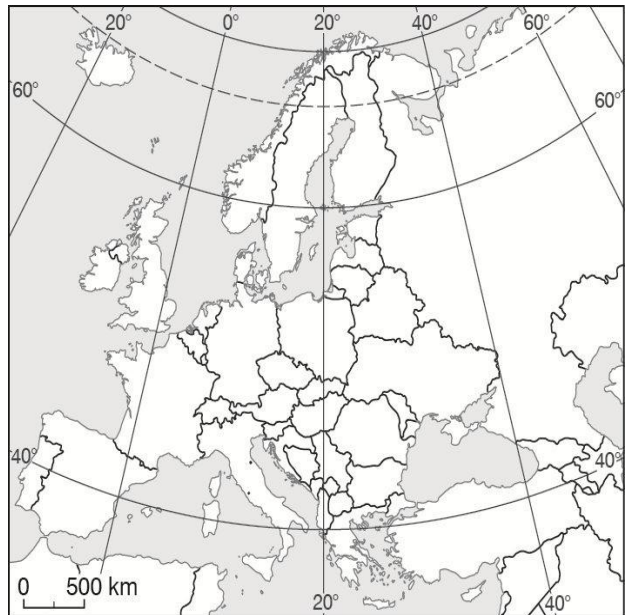
1. Rozwiąż poniższe zadania w celu utrwalenia wiadomości i umiejętności z działu: „Ludność i urbanizacja w Polsce”. Odpowiedzi zapisz w zeszyte przedmiotowym.

**1. Odszukaj na mapie punkty X, Y i Z, których współrzędne geograficzne podano poniżej. Zapisz nazwy państw, na których obszarze znajdują się te punkty.**

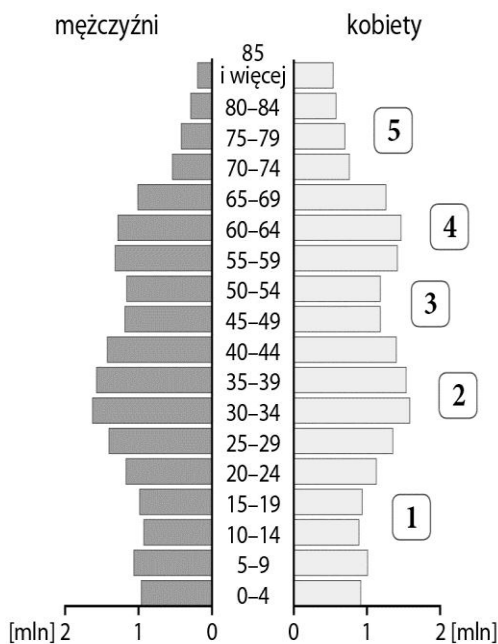
Punkt X ( $50^{\circ}\text{N}$ ,  $3^{\circ}\text{E}$ ): \_\_\_\_\_.

Punkt Y ( $40^{\circ}\text{N}$ ,  $5^{\circ}\text{W}$ ): \_\_\_\_\_.

Punkt Z ( $50^{\circ}\text{N}$ ,  $30^{\circ}\text{E}$ ): \_\_\_\_\_.



**2. Na podstawie piramidy płci i wieku ludności Polski w 2015 roku wykonaj polecenia.**



a) Ustal, ile dziewcząt znajduje się w przedziale wiekowym 5–9 lat.

b) Wypisz cyfry, którymi zaznaczono na piramidzie wyże demograficzne.

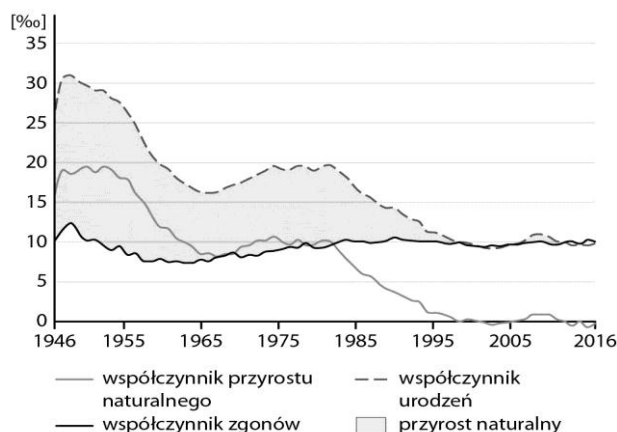
**3. Zaznacz zdania zawierające prawdziwe informacje.**

A. Liczba ludności Polski systematycznie rośnie (o 2% rocznie).

B. Mimo wahań od lat 90. XX w. liczba ludności Polski, podobnie jak i całego kontynentu, niewiele się zmienia.

C. Przyrost naturalny ma duży wpływ na liczbę ludności danego kraju.

4. Na podstawie wykresu przedstawiającego ruch naturalny ludności w Polsce w latach 1946–2012 wykonaj polecenia.



a) Uzupełnij tabelę odpowiednimi wartościami współczynników.

10, 13, 19, 25, 9, 32

Rok	Współczynnik urodzeń [%o]	Współczynnik zgonów [%o]	Przyrost naturalny [%o]
1980			

b) Napisz, który czynnik w największym stopniu wpłynął na wartość przyrostu naturalnego w 1980 roku.

c) Podaj przedział wiekowy dla ludności w wieku przedprodukcyjnym.

5. Wpisz w odpowiednie miejsca tabeli wymienione poniżej czynniki wpływające na rozmieszczenie ludności.

*rzeźba terenu, możliwość znalezienia pracy,  
warunki klimatyczne, migracje*

Czynniki przyrodnicze	Czynniki pozaprzyrodnicze

6. Podkreśl prawidłowe informacje w poniższych zdaniach.

Rozmieszczenie ludności określamy za pomocą wskaźnika gęstości zaludnienia, wyrażonego liczbą mieszkańców przypadającą na **1 km<sup>2</sup> / 100 km<sup>2</sup>**. W Polsce średnia gęstość zaludnienia wynosi **213 os./100 km<sup>2</sup> / 123 os./1 km<sup>2</sup>**. Obszarem, na którym przypada największa liczba mieszkańców na jednostkę powierzchni, jest województwo **warmińsko-mazurskie / śląskie / wielkopolskie**. Z kolei najrzadziej zaludnione jest województwo **mazowieckie / zachodniopomorskie / podlaskie**.

7. Na podstawie danych statystycznych przedstawionych w tabeli oblicz współczynnik przyrostu rzeczywistego w województwie X. Wynik podaj w promilach.

Województwo X	
Powierzchnia (tys. km <sup>2</sup> )	15,3
Liczba ludności (mln)	3,6
Urodzenia (tys.)	31,6
Zgony (tys.)	40,4
Emigranci (tys.)	58,0
Imigranci (tys.)	41,0
Ludność miejska (mln.)	3,5

**8. Zaznacz prawidłowe dokończenie zdania.**

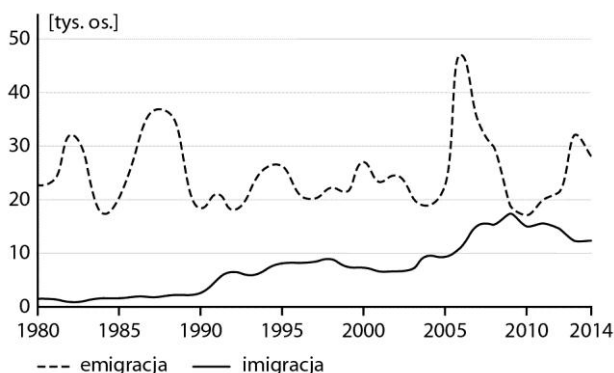
Współczynnik przyrostu rzeczywistego w województwie łódzkim wyniósł  $-2,3\%$ . Oznacza to, że

- A. na każde 100 mieszkańców przybyło 2,3 osoby.
- B. na każdy 1000 mieszkańców ubyło 2,3 osoby.
- C. na każdy 1000 mieszkańców ubyło 230 osób.

**9. Podkreśl właściwe informacje dotyczące struktury narodowościowej i etnicznej Polski.**

- A. Najliczniejszą społecznością etniczną w Polsce są **Kaszubi / Łemkowie / Ślązacy**.
- B. Najliczniejszą mniejszość narodową w Polsce stanowią **Ślązacy / Niemcy / Ukraińcy**.
- C. Najliczniejszą mniejszością etniczną w Polsce są **Romowie / Tatarzy / Żydzi**.

**10. Przeanalizuj wykres i zaznacz zdania zawierające prawdziwe informacje.**



- A. W Polsce saldo migracji zewnętrznych jest dodatnie.
- B. Najmniejszą różnicę między emigracją a imigracją zanotowano w 2009 roku.
- C. Obecnie dużo więcej osób osiedla się w naszym kraju niż wyjeżdża z niego na stałe.
- D. Około 2006 roku nastąpił gwałtowny wzrost liczby osób emigrujących z Polski.

**11. Oceń prawdziwość informacji. Zaznacz P, jeśli informacja jest prawdziwa, lub F, jeśli fałszywa.**

1.	Największy odsetek osób pracujących w usługach odnotowano w województwie mazowieckim.	<b>P</b>	<b>F</b>
2.	Obecnie w rolnictwie pracuje w Polsce 28% zatrudnionych.	<b>P</b>	<b>F</b>
3.	Zdecydowaną większość miast w Polsce stanowią ośrodki miejskie liczące więcej niż 200 tys. mieszkańców.	<b>P</b>	<b>F</b>

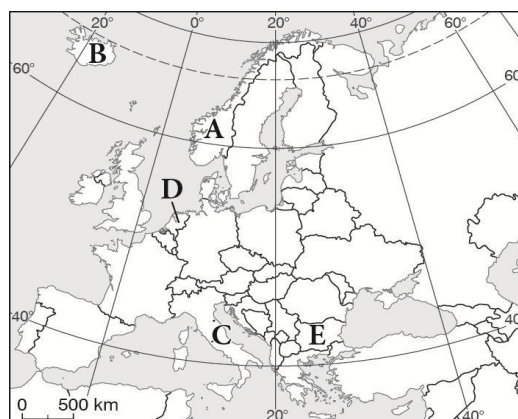
**12. Na podstawie opisu pewnego miasta w Polsce podkreśl nazwy głównych funkcji, które ono spełnia.**

*usługowa, handlowa, administracyjna, przemysłowa, transportowa, edukacyjno-naukowa, turystyczna, religijna*

Częstochowa – miasto na prawach powiatu w województwie śląskim. Znajdują się tam bazylika i klasztor na Jasnej Górze – główny ośrodek kultu maryjnego i pielgrzymowania w Polsce. W mieście funkcjonuje ponad 20 tys. różnej wielkości przedsiębiorstw, m.in. z branży metalurgicznej, włókienniczej i metalowej. Mieści się tam dziewięć wyższych uczelni, wiele muzeów i galerii.

**2. Podaj nazwy państw, które zaznaczono na mapie konturowej Europy literami A–E. Dopisz do nich ich stolice.**

- A. \_\_\_\_\_
- B. \_\_\_\_\_
- C. \_\_\_\_\_
- D. \_\_\_\_\_
- E. \_\_\_\_\_



**W RAZIE JAKICHKOLWIEK PROBLEMÓW PROSZĘ O KONTAKT MAILOWY:**

**[iwondob@op.pl](mailto:iwondob@op.pl)**